

Name: _____
Pflanzen in ihren Lebensräumen

Biologie Fr. Gilek Klasse 5a

Liebe 5a,

ich habe für euch tolle Videos ausgesucht, welche ihr euch unbedingt anschauen sollt!
Ihr könnt auch gerne mit dem Biologiebuch arbeiten (S.140-142). Diese Themen setzte ich voraus, damit wir nach den Osterferien direkt mit den Experimenten anfangen können. 😊

Beste Grüße und bleibt gesund!

Fr. Gilek

Woche 16.03- 20.03:

Schau dir das folgende Video (mehrmals) an:

<https://www.youtube.com/watch?v=ZLUr03P8APc>

Nenne aus welchen Bestandteilen die Pflanzen besteht und erkläre die Funktion. (Insgesamt 4 Bestandteile).

Woche 23.03- 27.03:

Schau dir folgendes Video (mehrmals) an:

<https://www.youtube.com/watch?v=5clbo326Svc>

Beantworte folgende Fragen:

1. Welche drei wichtige Bestandteile sind für die Fotosynthese wichtig?
2. Wie kommt der Traubenzucker in die Zuckerrübe?



Abb. Zuckerrübe

Gut gemacht !! 😊

Name: _____
Pflanzen in ihren Lebensräumen

Woche 30.03 – 04.04:

Schau dir folgendes Video an:

<https://www.youtube.com/watch?v=3QwabHBmUYw>

Aufgabe: Schau dir folgende Abbildungen auf der nächsten Seite an und wähle eine Abbildung aus, welche du in dein Biologieheft abzeichnest.

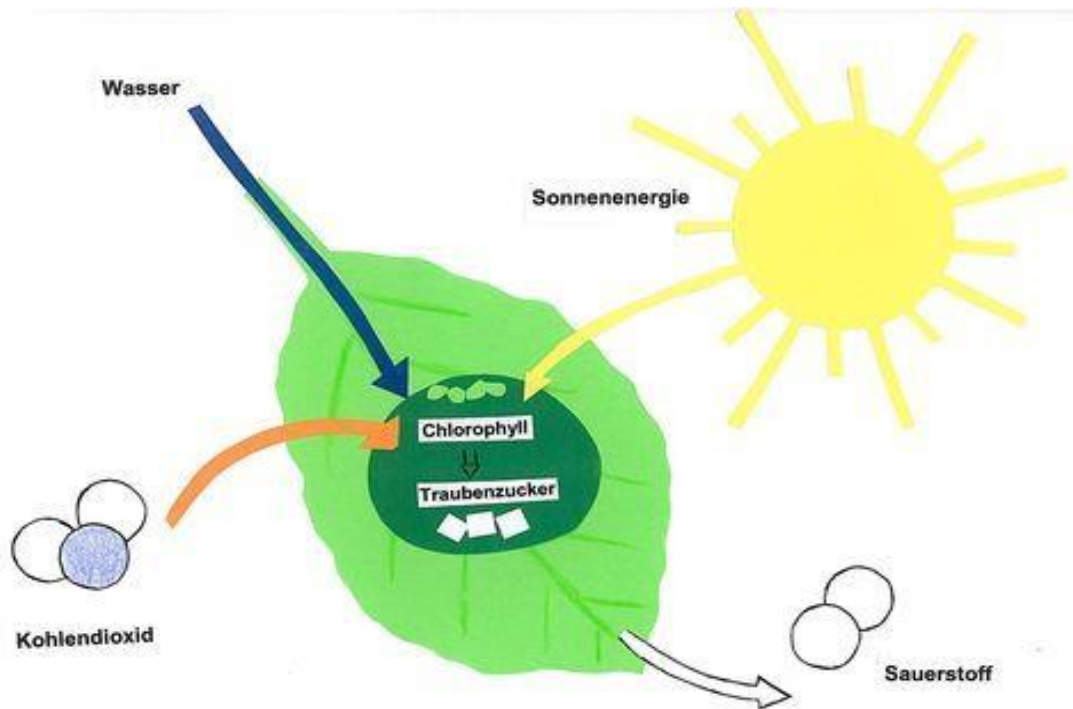
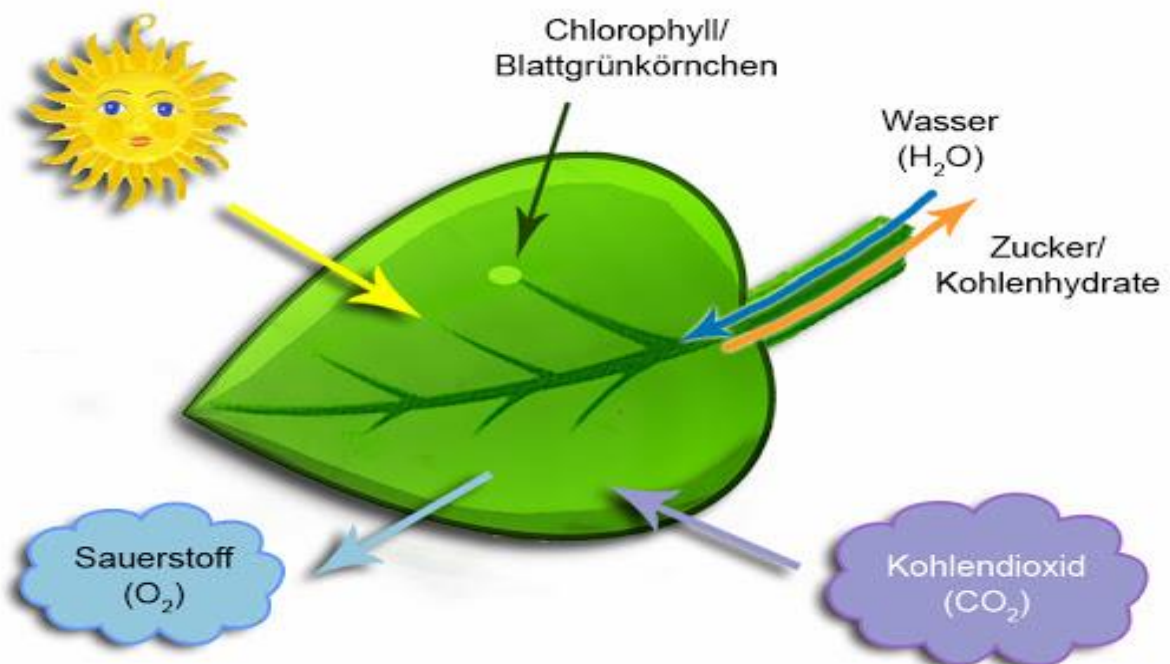


Abbildung 1 Fotosynthese



Grafik: www.treedd.de
Abbildung 2 Fotosynthese

Gut gemacht !! 😊

Name: _____
Pflanzen in ihren Lebensräumen

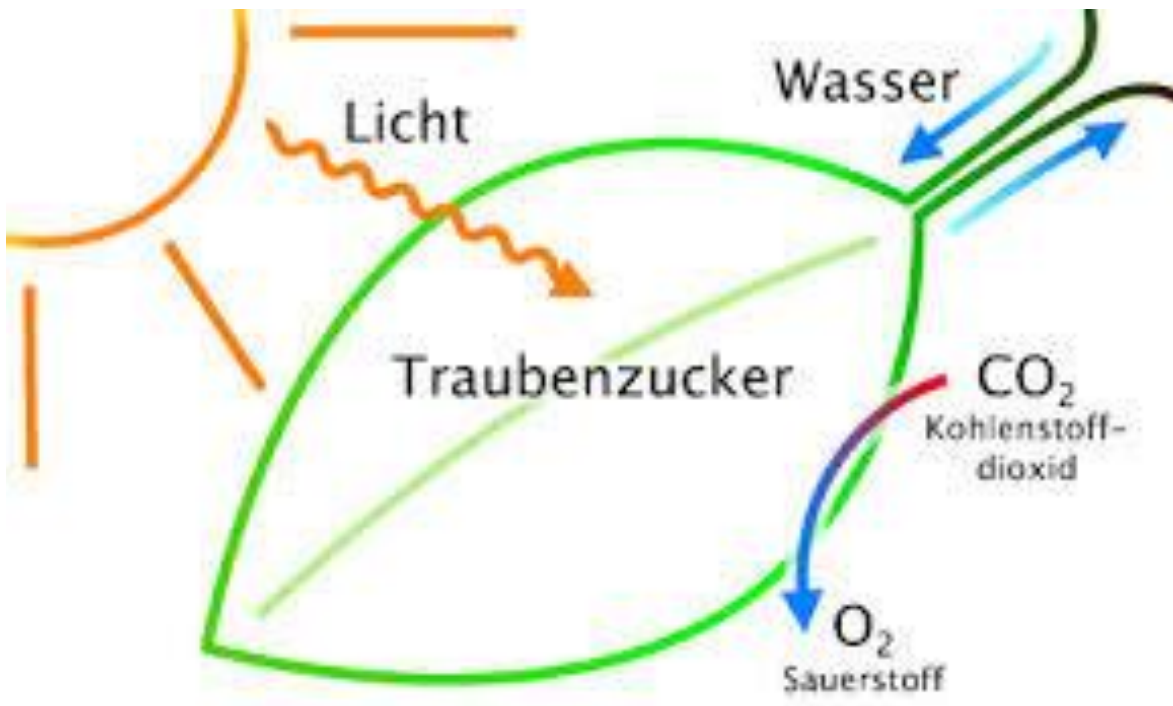


Abbildung 3: Fotosynthese

Gut gemacht !! 😊